

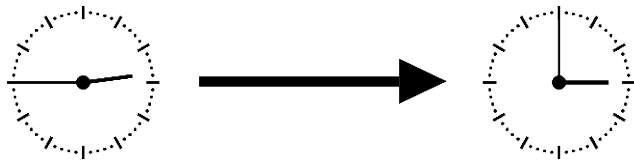


Ausrechnen von Zeitspannen und Zeitpunkten

i Es ist gerade 11:45 Uhr und um 12:00 Uhr ist die Schule aus. Bis zum Ende des Schultags dauert es somit noch 15 min (Minuten). In diesem Beispiel sind **11:45 Uhr** und **12:00 Uhr Zeitpunkte** und die **15 min** (Minuten) die **Zeitspanne** oder **Zeitdauer**.



Welche Zeitspanne ist richtig?




- 15 min
- 1h 15 min
- 10 min
- 20 min



Welche Zeitspanne ist richtig?



- 30 min
- 1 h
- 40 min
- 20 min





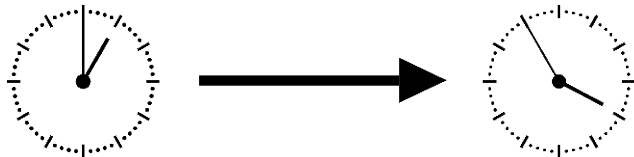
Welche Zeitspanne ist richtig?



- 1h 20 min
- 25 min
- 15 min
- 30 min



Welche Zeitspanne ist richtig?



- 2 h 55 min
- 1 h 55 min
- 3 h 5 min
- 2 h 50 min




Berechne die Flugzeit

11:45 Uhr Start in Berlin

13:00 Uhr Landung in Wien



- 1 h 15 min
- 2 h 15 min
- 1 h 45 min



**Berechne die Flugzeit.**

14:05 Uhr Start in Berlin

16:40 Uhr Landung in Palermo



- 2 h 30 min
- 2 h 45 min
- 2 h 35 min

**Ankunftszeit**


Wir starten mit dem Auto um 12:50 Uhr und fahren 40 min (Minuten) bis zum Zoo. Wann sind wir dort?




- 13:40 Uhr
- 13:20 Uhr
- 13:30 Uhr

**Ankunftszeit**

Wir fahren mit dem Schulbus um 7:40 Uhr los. Die Fahrt dauert 15 min (Minuten). Um wie viel Uhr erreichen wir in der Schule?

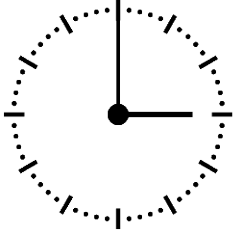


- 7:55 Uhr
- 7:45 Uhr
- 8:05 Uhr



**Abfahrtszeit**

Wir erreichen um 15:00 Uhr das Haus der Großeltern. Die Fahrzeit war **1 h 20 min**. Wann sind wir losgefahren?



- 13:40 Uhr
- 14:10 Uhr
- 13:20 Uhr

**Startzeit**

Es ist 19:00 Uhr. Wir schauten einen Film, der 70 min lang dauerte. Um wieviel Uhr startete der Film?

- 17:50 Uhr
- 18:10 Uhr
- 17:40 Uhr
- 17:30 Uhr

Bildnachweise:

"Uhr" - WP-User: Michev - CC BY-SA 3.0

"Flugzeug" - @brgfx - stock.adobe.com

"Auto" - @rosinka - stock.adobe.com

"Bus" - @rosinka - stock.adobe.com