



Verdoppeln wir Mengen



Wenn wir die Bauklötze verdoppeln, haben wir wie viele?



- 13
- 12
- 11



Wir haben 6 €, die verdoppelt werden. Welche Rechnung stimmt?

- $6 \text{ €} + 3 \text{ €}$
- $6 \text{ €} + 6 \text{ €}$
- $5 \text{ €} + 5 \text{ €}$



Wir teilen 5 Birnen in jeweils 2 Hälften. Wie viele Birnen-Hälften haben wir insgesamt?






Ellen hat 7 Murmeln. Frida hat doppelt so viele. Wie viele Murmeln hat Frida?



Verdopple die Würfelaugen. Welches Ergebnis stimmt?



- 18
- 19
- 17
- 9




Opa schenkt dir 5 € Taschengeld. Oma sagt: "Ich verdopple"! Wie viel € bekommst du insgesamt?






Die Giraffe ist doppelt so groß wie der Elefant. Der Elefant ist 2 m groß.  
Wie groß ist die Giraffe?



Mati hat 10 Stifte. Ella hat doppelt so viele. Wie viele Stifte hat Ella?



2 Löwen haben 8 Beine. Wie viele Beine haben doppelt so viele Löwen?



- 18
- 8
- 16
- 12

Bildnachweise:

"Spielsachen" - ©brgfx - stock.adobe.com  
"Früchte" - ©brovkoserhii - stock.adobe.com  
"Tiere" - ©Graphics101 - stock.adobe.com