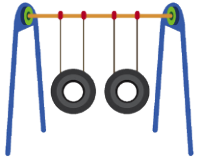




Lass uns herausfinden, welche Gegenstände symmetrisch sind und welche Spiegelbilder richtig sind.



Sind die Schaukeln symmetrisch?



- Ja, sie sind symmetrisch.
- Nein, sie sind nicht symmetrisch.



Ist das Schlagzeug symmetrisch?

Schau genau!



- Ja, es ist symmetrisch.
- Nein, es ist nicht symmetrisch.



Ist das Fahrrad aus dieser Sicht symmetrisch?






- Ja
- Nein





Welche Spiegelung stimmt?

- 
- 
- 



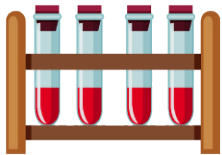
Ist dieses Bild symmetrisch?



- Nein
- Ja



Ist dieses Bild symmetrisch?



- Nein
- Ja

Bildnachweise:

© brgfx - stock.adobe.com