



Ausrechnen von Zeitspannen und Zeitpunkten

**i** Es ist gerade 11:45 Uhr und um 12:00 Uhr ist die Schule aus. Bis zum Ende des Schultags dauert es somit noch 15 min (Minuten). In diesem Beispiel sind **11:45 Uhr** und **12:00 Uhr** **Zeitpunkte** und die **15 min** (Minuten) die **Zeitspanne** oder **Zeitdauer**.



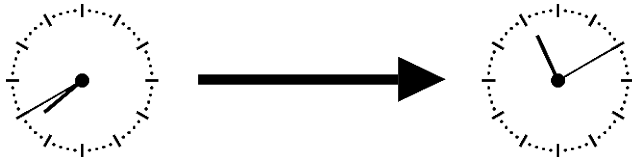
**Welche Zeitspanne ist richtig?**

16:45 Uhr → 17:30 Uhr

- 1 h 15 min
- 45 min
- 30 min



**Welche Zeitspanne ist richtig?**



- 3 h 40 min
- 4 h 30 min
- 3 h 30 min



**Welche Zeitspanne ist richtig?**

00:05 Uhr → 10:30 Uhr

- 10 h 55 min
- 9 h 55 min
- 10 h 25 min



**Welche Zeitspanne ist richtig?**

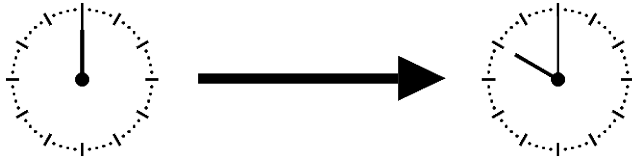
22:00 Uhr → 02:30 Uhr

- 3 h 30 min
- 5 h 30 min
- 4 h 30 min





?

**Welche Zeitspanne ist richtig?**

- 2 h
- 12 h
- 22 h

?

**Berechne die Fahrzeit**

15:16 Uhr Abfahrt in Berlin

19:35 Uhr Ankunft in Prag



- 3 h 19 min
- 4 h 19 min
- 4 h 29 min

?

**Berechne die Flugzeit**

11:33 Uhr Start in Berlin

12:48 Uhr Landung in Wien



- 2 h 15 min
- 1 h 15 min
- 1 h 45 min





?

**Berechne die Flugzeit.**

14:04 Uhr Start in Berlin

16:39 Uhr Landung in Palermo



- 2 h 30 min
- 2 h 45 min
- 2 h 35 min

?

**Ankunftszeit**

Wir starten mit dem Auto um 12:53 Uhr und fahren 37 min (Minuten) bis zum Zoo. Wann sind wir dort?




- 13:30 Uhr
- 13:20 Uhr
- 13:40 Uhr

?

**Ankunftszeit**

Wir fahren mit dem Schulbus um 7:42 Uhr los. Die Fahrt dauert 13 min (Minuten). Um wie viel Uhr erreichen wir in der Schule?



- 7:45 Uhr
- 7:55 Uhr
- 8:05 Uhr

Bildnachweise:

"Uhr" - WP-User: Micthev - CC BY-SA 3.0 - commons.wikimedia.org  
"ICE" - Von I, Sese Ingolstadt - CC BY-SA 2.5 - commons.wikimedia.org  
"Flugzeug" - @brgfx - stock.adobe.com  
"Auto" - @rosinka - stock.adobe.com  
"Bus" - @rosinka - stock.adobe.com